



Unidad de Gestión Educativa local de Andahuaylas
Dirección de Gestión Pedagógica



Evaluación Local de Aprendizajes
Educación Primaria

Matemática

1°
Grado



DATOS DEL ESTUDIANTE

Nombres:

Apellidos:

Sección : Fecha:

Institución Educativa N°:

1

Marco, fue a la bodega a comprar tres chocolates y dos galletas.
¿Qué grupo de dulces le vendió la vendedora?

a.



b.



c.



2

José tiene los siguientes juguetes.



¿Qué juguete tiene en mayor cantidad?


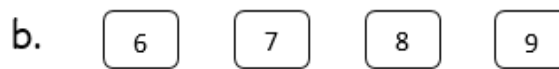
- a. Carritos
- b. Pelotas
- c. Guitarras

3

Mariela ordena tarjetas numéricas.



¿En cuál de los grupos, los números están ordenados menor a mayor?



4

Marca con una X el grupo que tenga una decena.



a.



b.



c.

5

Carlos llevó a la fiesta 8 dulces y Sofía 4. Calcula ¿Cuántos llevaron en total?



a. 12

b. 10

c. 8

6

Tengo 4 chocolates. Mi abuela me regaló 2 chocolates más.
¿Cuántos chocolates tengo en total?



¿Cuánto tengo?

- a. 4 chocolates
- b. 6 chocolates
- c. 8 chocolates

7

Si hoy es lunes 6 de agosto. ¿Qué día será mañana?

- a. Martes 7
- b. Miércoles 8
- c. Jueves 9

AGOSTO 2018						
Dom	Lun	Mar	Mié	Jue	Vie	Sáb
			1	2	3	4
5	6	7	8	9	10	11
12	13	14	15	16	17	18
19	20	21	22	23	24	25
26	27	28	29	30	31	

8

Pamela tiene 6 duraznos, después se los comió 4. ¿Cuántos duraznos le quedan?

- a. 10 duraznos
- b. 6 duraznos
- c. 2 duraznos

9

Observa el gráfico y responde:

- a. 2
- b. 7
- c. 12



10

Un ómnibus salió con 4 pasajeros, luego subieron 10 pasajeros. ¿Cuántos pasajeros en total habrá en el ómnibus?

- a. 7
- b. 14
- c. 16



11

Pedro compró 4 taps por la mañana y 5 taps por la tarde. ¿Cuántas taps compró en un día?

- a. 9 taps
- b. 5 taps
- c. 3 taps



12


El perro de Marina pesaba 6 kilos, comió mucho y engordó 3 kilos ¿Cuánto pesa ahora?

- a. 3 kilos
- b. 6 kilos
- c. 9 kilos



13

¿Quién está en cuarto lugar?



- a. Leo
- b. Willy
- c. Jorge

14

Pamela, Carla y Rosa compran varios productos. Ellos han decidido que Pamela cargue el producto más pesado que todos.



¿Qué producto cargó Pamela?



a



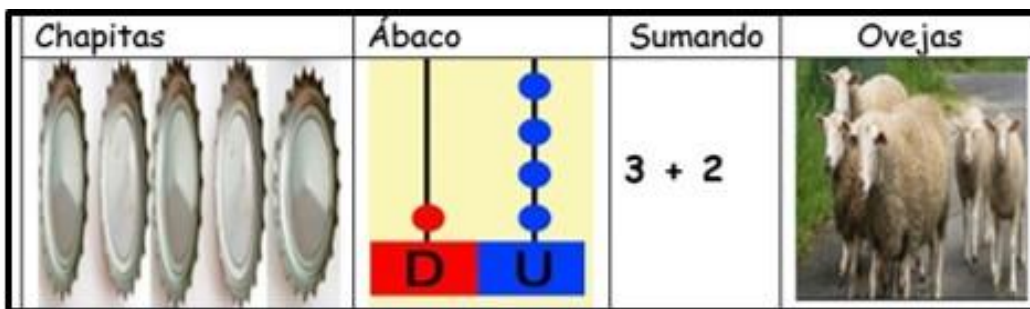
b



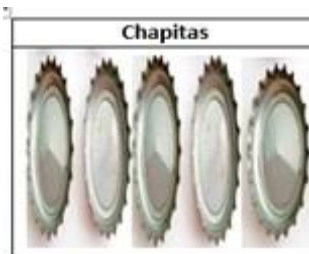
c

15

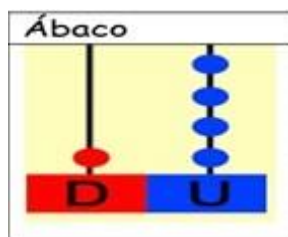
Elena presentó el número 5 en sus diferentes formas



¿Qué presentación es incorrecta?



a.



b.



c.

16

Piero ha comprado helados, como se muestra en las siguientes imágenes:



Se necesita empaquetarlo en bolsas de 10 unidades, ¿Cuántas bolsas necesitará?

17

- a. 10 bolsas y quedan 3 heladas.
- b. 20 bolsas y quedan 3 heladas.
- c. 2 bolsas y quedan 3 heladas.

Lee la pizarra y responde:

Anita compró arroz con pollo en el recreo. A la hora de salida compró una gaseosa. ¿Cuánto gastó en total?

KIOSKO ESCOLAR	
LISTA DE PRECIOS	
Gaseosa	S/. 2
Pan con queso	S/. 2
Arroz con pollo	S/. 8

- a. S/. 10
- b. s/. 8
- c. s/. 4

18

Observa y responde:



¿Cuántos niños quedan en el bus?

- a. 8
- b. 5
- c. 4

19

Patricio recogió 8 peras y 10 manzanas. Observa:




Patricio recogió más manzanas que peras.
¿Cuántas manzanas más que peras recogió Diego?

- a. 18
- b. 10
- c. 2

20

Cuenta los objetos de cada grupo.



- a. 10
- b. 9
- c. 7

21

Rolando tiene las siguientes prendas de vestir




Indica la expresión correcta:

- a. Algunos son casacas
- b. Algunos son sombreros
- c. Todos son ponchos

22

Bertha quiere ordenar unos tarros de cocina de menor a mayor. Marca el tarro que debe ir al final.



- a. 
- b. 
- c. 

23

José tiene los siguientes productos.



¿Qué producto tiene en menor cantidad?

- a. 
- b. 
- c. 